

Nom

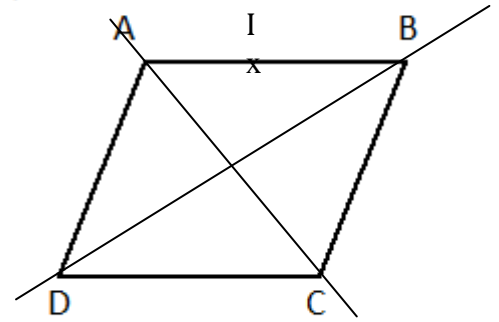
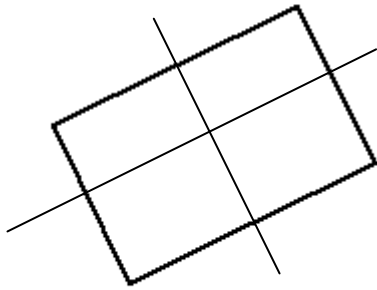
Anatole

Date

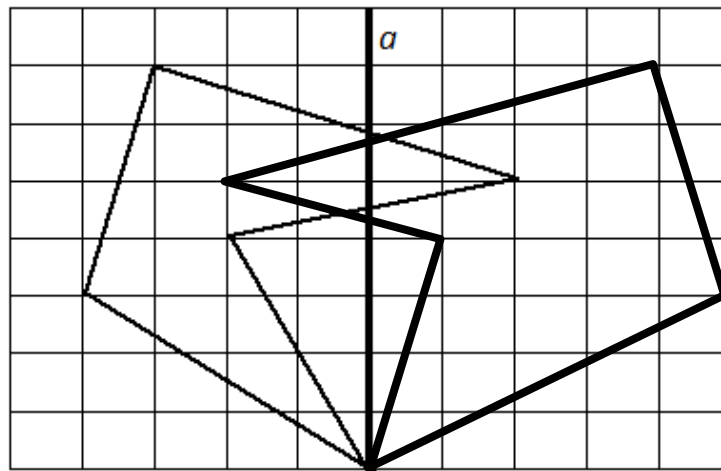
Entrainement étape orange de géométrie

1 Milieu, axes de symétrie

- place le point I, milieu du segment [AB]
- trace le ou les axe(s) de symétrie des 3 figures, s'ils en ont



2 Trace la figure symétrique par rapport à l'axe a



3 Trace les segments [AB] et [CD]

Le segment [AB] mesure 2 cm et 8 mm

Le segment [CD] mesure 1 dm et 2 cm

A | _____ | B

C | _____ | D

Nom

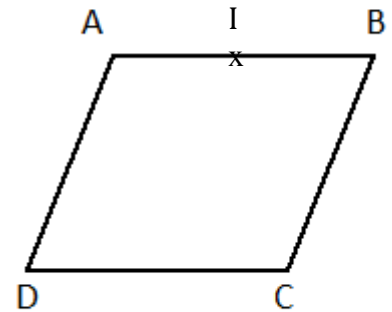
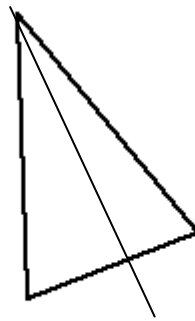
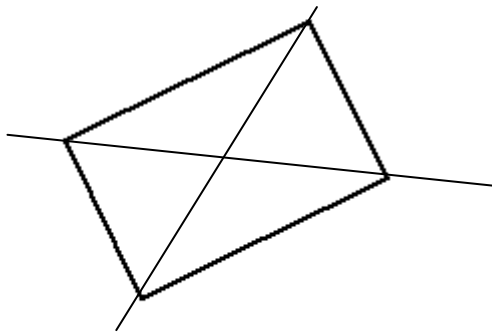
Barnabé

Date

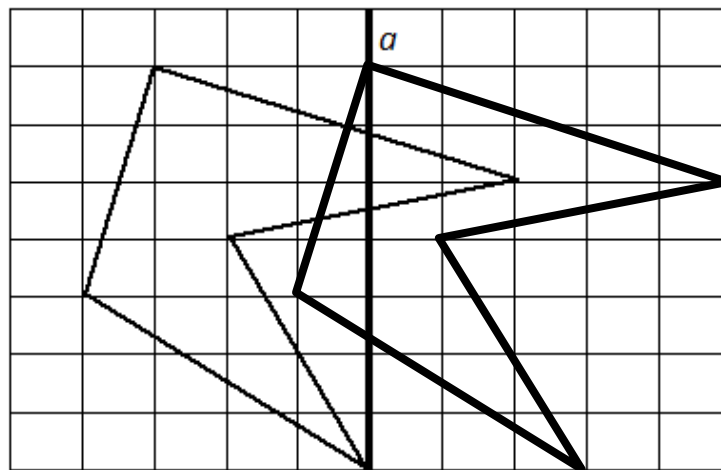
Entrainement étape orange de géométrie

1 Milieu, axes de symétrie

- place le point I, milieu du segment [AB]
- trace le ou les axe(s) de symétrie des 3 figures, s'ils en ont



2 Trace la figure symétrique par rapport à l'axe a



3 Trace les segments [AB] et [CD]

Le segment [AB] mesure 2 cm et 8 mm

Le segment [CD] mesure 1 dm et 2 cm

A | _____ | B

C | _____ | D