


GRANDEURS ET MESURE :

Mémo

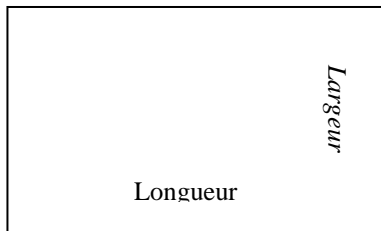
Le périmètre de certaines figures.

Pour calculer le périmètre d'une figure

Tu calcules la longueur totale de son contour.



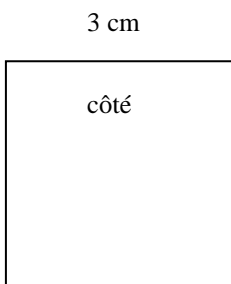
Périmètre du rectangle : (longueur + largeur) x 2



5 cm

$$\text{Périmètre} = (5 \text{ cm} + 3 \text{ cm}) \times 2 = 16 \text{ cm}$$

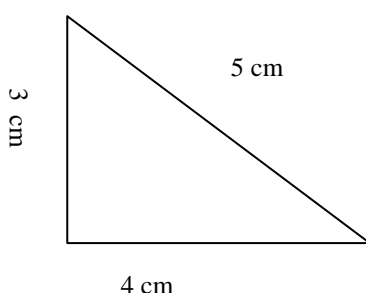
Périmètre du carré : côté x 4



3 cm

$$\text{Périmètre} = 3 \text{ cm} \times 4 = 12 \text{ cm}$$

Périmètre du triangle : côté + côté + côté



3 cm

4 cm

$$\text{Périmètre} = 5 \text{ cm} + 4 \text{ cm} + 3 \text{ cm} = 12 \text{ cm}$$