



Mon collègue demande
notre aide apprenni !
Part à la découverte des
chaines alimentaires !

Objectif :

Découvrir les principaux régimes alimentaires


Nombre de réponses justes : /

Qui mange qui ? (1)


Les différents régimes alimentaires

1- Carnivore, herbivore, omnivore....c'est quoi ?


Relie l'animal à sa nourriture.



Lion



Capucin



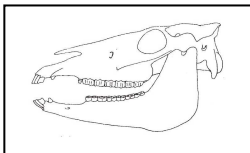
Kangourou

A l'aide des découvertes que tu viens de faire, définis les régimes alimentaires suivants :

- Carnivore :
- Herbivore :
- Omnivore :

2- Crânes et régimes alimentaires.

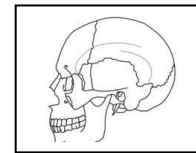
Relie le crâne au type de régime correspondant :



Carnivore



Herbivore



Omnivore

3- Complète les textes.

Je suis un ruminant, je mange de Mon régime alimentaire se nomme

Je suis un lion. Je mange de la Je suis donc un

Je suis un homme. Je mange de et des Je suis donc un

4. Classe les animaux selon leur régime alimentaire.

vache, cochon, mouton, crabe, tigre, hérisson, renard, cerf, lion, sanglier, cheval

Les herbivores	Les carnivores	Les omnivores



Mon collègue demande
notre aide apprenéti !
Part à la découverte des
Chaines alimentaires !

Objectifs :

Comprendre le rôle et la place des êtres vivants dans leur environnement.

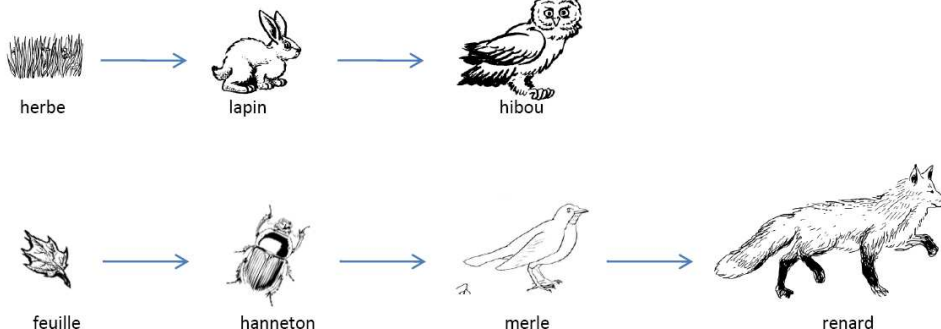
Notion de chaîne alimentaire.

Nombre de réponses justes : /

Qui mange qui ? (2)

La chaîne alimentaire

1- Les relations alimentaires.



Que signifie la flèche ?

Qu'y a-t-il toujours au début de chaque chaîne ?

Que peux-tu dire de la longueur des chaînes ?

2- Schématiser une chaîne alimentaire



Une chenille
mange une feuille.

Un oiseau
mange une chenille.

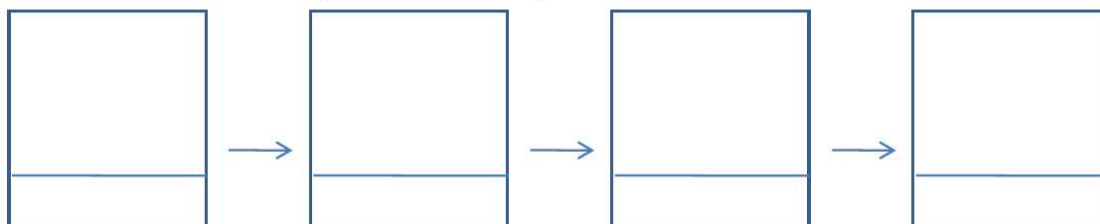
Un chat mange
un oiseau.

Réponds aux questions :

Dans cette chaîne alimentaire :

- a. qui est mangé en premier ? _____
- b. quel animal est végétarien ? _____
- c. quels animaux sont carnivores ? _____

Complète la chaîne alimentaire. Puis, entoure en vert clair le(s) maillon(s) des plantes, en vert foncé ceux des animaux végétariens et en rouge ceux des animaux carnivores.



3- Quel élément retrouve-t-on au début d'une chaîne alimentaire ?

.....

Les traces écrites à faire copier :

L'alimentation des animaux.

1. Pour vivre, les animaux doivent se nourrir.

Certains se nourrissent d'aliments d'origine végétale, ce sont les végétariens.

Certains mangent d'autres animaux : ce sont les carnivores.

Ceux qui mangent à la fois des plantes et des animaux sont les omnivores.

2. Les chaines alimentaires

Une chaine alimentaire est un schéma qui représente le trajet de la nourriture depuis le végétal jusqu'au plus grand prédateur.

Dans une chaine alimentaire, chaque flèche signifie « est mangé par ».

Une chaine alimentaire comporte au moins 3 maillons, parfois plus.

- Le 1er maillon d'une chaine alimentaire est toujours une plante. Elle sert de nourriture aux animaux végétariens.
- Le 2ème maillon est celui végétariens.
- Le troisième maillon est celui des carnivores.

L'alimentation des animaux.

1. Pour vivre, les animaux doivent se nourrir.

Certains se nourrissent d'aliments d'origine végétale, ce sont les _____

Certains mangent d'autres animaux : ce sont les _____

Ceux qui mangent à la fois des plantes et des animaux sont les _____

2. les chaines alimentaires

Une chaine alimentaire est un schéma qui représente le trajet de la nourriture depuis _____ jusqu'au plus grand _____.

Dans une chaine alimentaire, chaque flèche signifie _____

Une chaine alimentaire comporte au moins _____ maillons, parfois plus.

- Le 1er maillon d'une chaine alimentaire est toujours _____. Elle sert de nourriture aux animaux végétariens.
- Le 2ème maillon est celui végétariens.
- Le troisième maillon est celui des carnivores.

L'alimentation des animaux.

1. Pour vivre, les animaux doivent se nourrir.

Certains se nourrissent d'aliments d'origine végétale, ce sont les _____

Certains mangent d'autres animaux : ce sont les _____

Ceux qui mangent à la fois des plantes et des animaux sont les _____

2. les chaines alimentaires

Une chaine alimentaire est un schéma qui représente le trajet de la nourriture depuis _____ jusqu'au plus grand _____.

Dans une chaine alimentaire, chaque flèche signifie _____

Une chaine alimentaire comporte au moins _____ maillons, parfois plus.

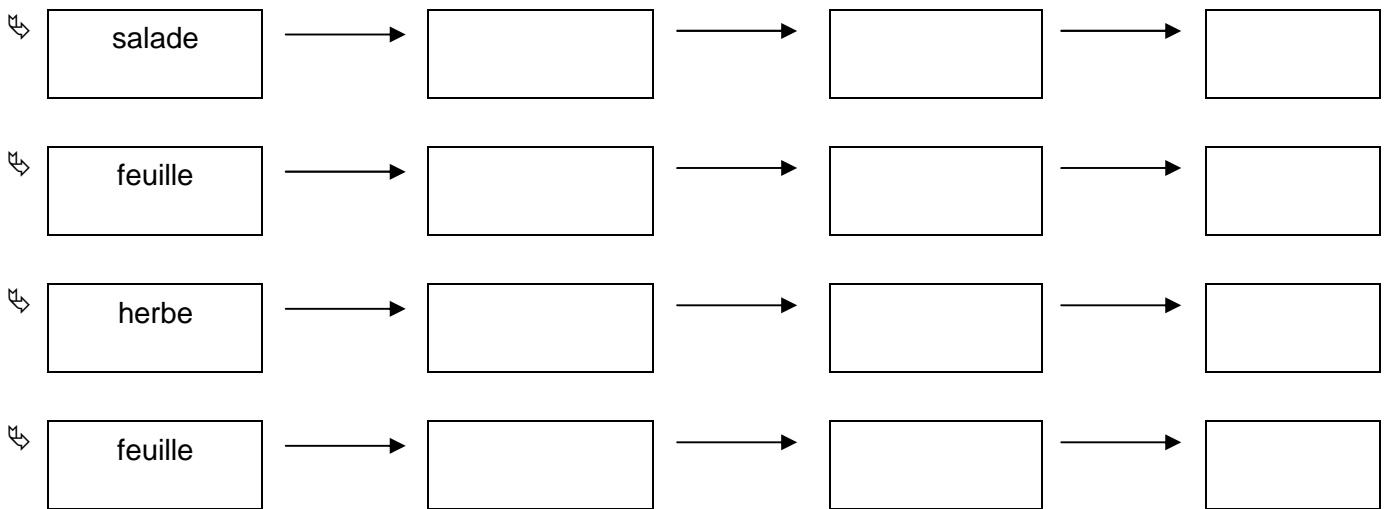
- Le 1er maillon d'une chaine alimentaire est toujours _____. Elle sert de nourriture aux animaux végétariens.
- Le 2ème maillon est celui végétariens.
- Le troisième maillon est celui des carnivores.

Prénom :


Date :

Les chaînes alimentaires

1) Voici le premier maillon de 4 chaînes alimentaires. Trouve les maillons suivants. Découpe et colle au bon endroit.



2) Avec 4 couleurs différentes, trouve 4 chaînes alimentaires dans ce dessin.



escargot	limace	criquet	hanneton	musaraigne	lézard
merle	grenouille	héron	renard	couleuvre	chouette

escargot	limace	criquet	hanneton	musaraigne	lézard
merle	grenouille	héron	renard	couleuvre	chouette

escargot	limace	criquet	hanneton	musaraigne	lézard
merle	grenouille	héron	renard	couleuvre	chouette

escargot	limace	criquet	hanneton	musaraigne	lézard
merle	grenouille	héron	renard	couleuvre	chouette

escargot	limace	criquet	hanneton	musaraigne	lézard
merle	grenouille	héron	renard	couleuvre	chouette

escargot	limace	criquet	hanneton	musaraigne	lézard
merle	grenouille	héron	renard	couleuvre	chouette

escargot	limace	criquet	hanneton	musaraigne	lézard
merle	grenouille	héron	renard	couleuvre	chouette

escargot	limace	criquet	hanneton	musaraigne	lézard
merle	grenouille	héron	renard	couleuvre	chouette

escargot	limace	criquet	hanneton	musaraigne	lézard
merle	grenouille	héron	renard	couleuvre	chouette

escargot	limace	criquet	hanneton	musaraigne	lézard
merle	grenouille	héron	renard	couleuvre	chouette

escargot	limace	criquet	hanneton	musaraigne	lézard
merle	grenouille	héron	renard	couleuvre	chouette

Correction

