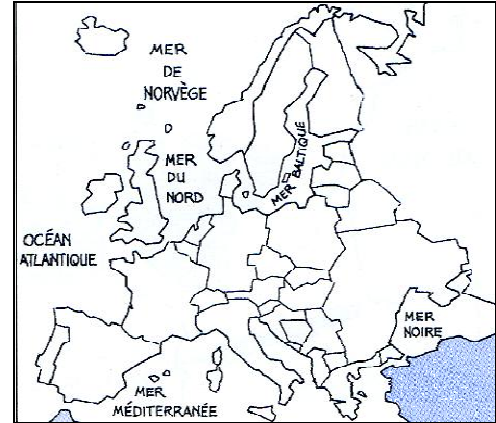
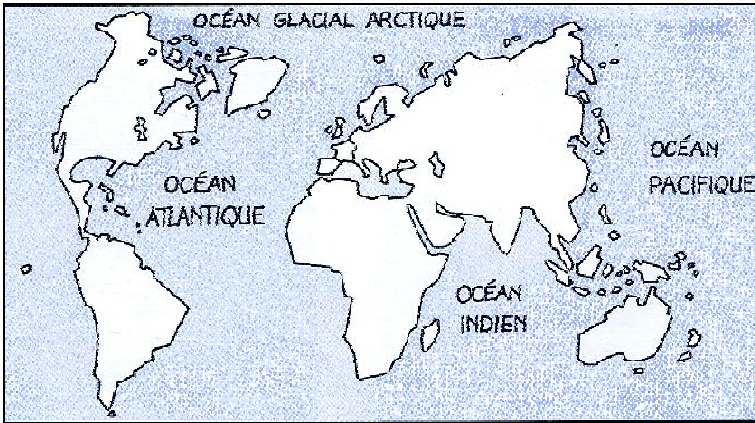


La France, notre pays

Le pays dans lequel nous vivons s'appelle la On surnomme la surnomme souvent car on pourrait faire le tour de ses frontières en traçant un polygone à 6 côtés.

La majeure partie du territoire français se trouve en Europe, c'est la



Colorie en rouge la France sur ces deux cartes.

1) La métropole

Voici une vue telle qu'on peut la voir depuis un satellite lancé dans l'espace.



Questionnement oral :

- A ton avis, sur cette image, que représentent les zones de couleurs bleue ? verte ?
- Nomme l'île visible au sud-est de la France.
- Regarde l'atlas et nomme les 3 mers et l'océan qui bordent la métropole.
- Trouve le nom des pays qui ont une frontière commune avec la France.
- Nomme la capitale de la France.

2) L'Outre-Mer

Une partie du territoire français se trouve en dehors de l'Europe, dispersée dans le monde.
On l'appelle
Ce qui signifie : au-delà de la mer.

Questionnement oral :

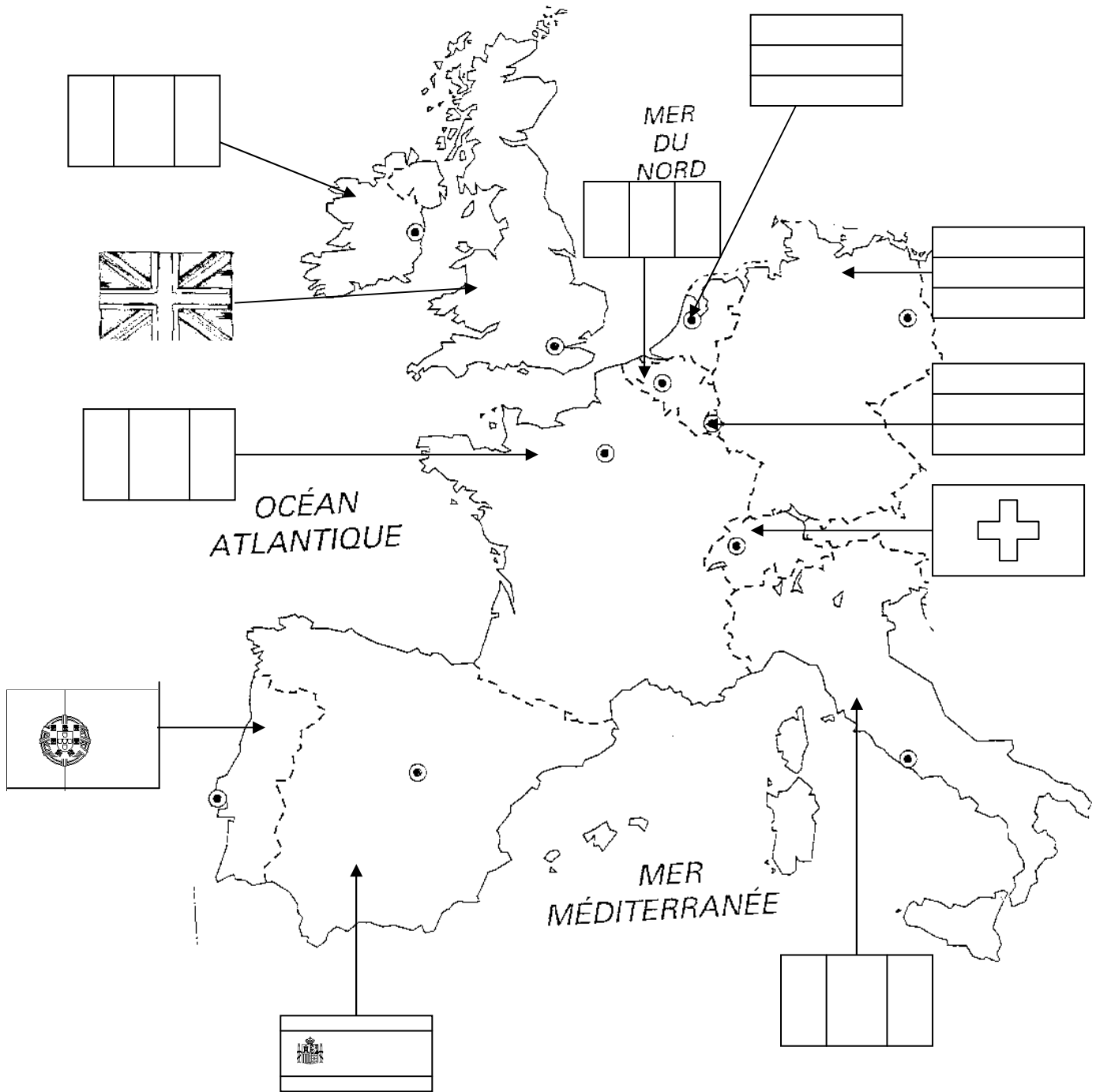
- Nomme et situe quelques territoires d'Outre-Mer
- Dans quel océan ou sur quel continent se trouvent-ils ?





Les pays qui entourent la France

1. Colorie les drapeaux



2. Inscris dans chaque case le pays et sa capitale

3. Colorie chaque pays de la carte d'une couleur et reporte ces couleurs dans les cases ci-dessous

Pays						
Capitale						

Pays					
Capitale					