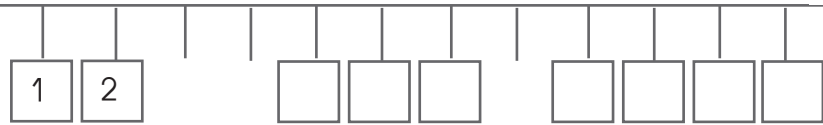





1 Complète l'axe des nombres.



2 Compte et complète.



10 + \square = \square
Il y a \square feutres.



10 + \square = \square
Il y a \square billes.

3 Dessine le nombre de billes indiqué.



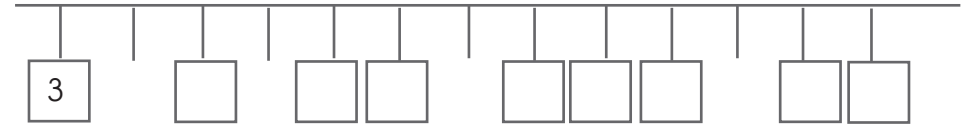
4 cahier du jour
Range ces nombres du plus petit au plus grand.

3 - 12 - 9 - 1 - 19 - 14 - 5 - 10 - 17 - 6

5 cahier du jour
Ecris ces nombres en chiffres ou en lettres.

- | | | | |
|--------------|-----------|--------|--------|
| a)- seize | a)- dix | a)- 8 | a)- 17 |
| b)- neuf | b)- douze | b)- 12 | b)- 5 |
| c)- dix-huit | c)-quinze | c)- 19 | c)- 11 |
| d)- treize | d)- sept | d)- 14 | d)- 13 |

1 Complète l'axe des nombres.



2 Complète.

3	\square	3	14	\square	16	\square	2	\square	\square	6	\square
6	\square	7	8	\square	10	\square	11	\square	\square	10	\square
11	\square	9	19	\square	17	\square	17	\square	\square	13	\square

3 Complète les suites de nombres.

- a)- 2 4 6 \square \square \square \square \square
- b)- 5 7 9 \square \square \square \square \square
- c)- 19 18 17 \square \square \square \square \square
- d)- 16 14 12 \square \square \square \square \square

4 cahier du jour
Devinettes !

- Je suis un nombre de deux chiffres.
- Je suis compris entre 10 et 19.
- Mon chiffre des unités est 7.

Je suis

- Je suis un nombre de deux chiffres.
- Mon chiffre des dizaines est 1.
- Mon chiffre des unités est le double de mon chiffre des dizaines.

Je suis