



Découvrir

1. Compter les siècles


- À quel siècle les dates suivantes appartiennent-elles ?

1515 : _____ 1815 : _____ 1492 : _____
1993 : _____ 1662 : _____ 1789 : _____


2. Deux siècles d'histoire

- a. Sur la frise chronologique, écris au bon endroit :

- XIX^e siècle
- XX^e siècle
- XXI^e siècle



1800 1900 2000




- b. Réponds aux questions.

Quel siècle a précédé le XIX^e siècle? _____

Quel siècle suivra le XXI^e siècle? _____

- c. Colorie la frise ci-dessous en utilisant les mêmes couleurs que pour la précédente.

- d. Écris au bon endroit les dates suivantes : 1700, 1800, 1900 et 2000.





Aller plus loin

1. Indique en face de chaque événement ou de chaque invention la date correspondante.

L'invention du téléphone : _____

La première projection de cinéma : _____

Les premières émissions de télévision en France : _____

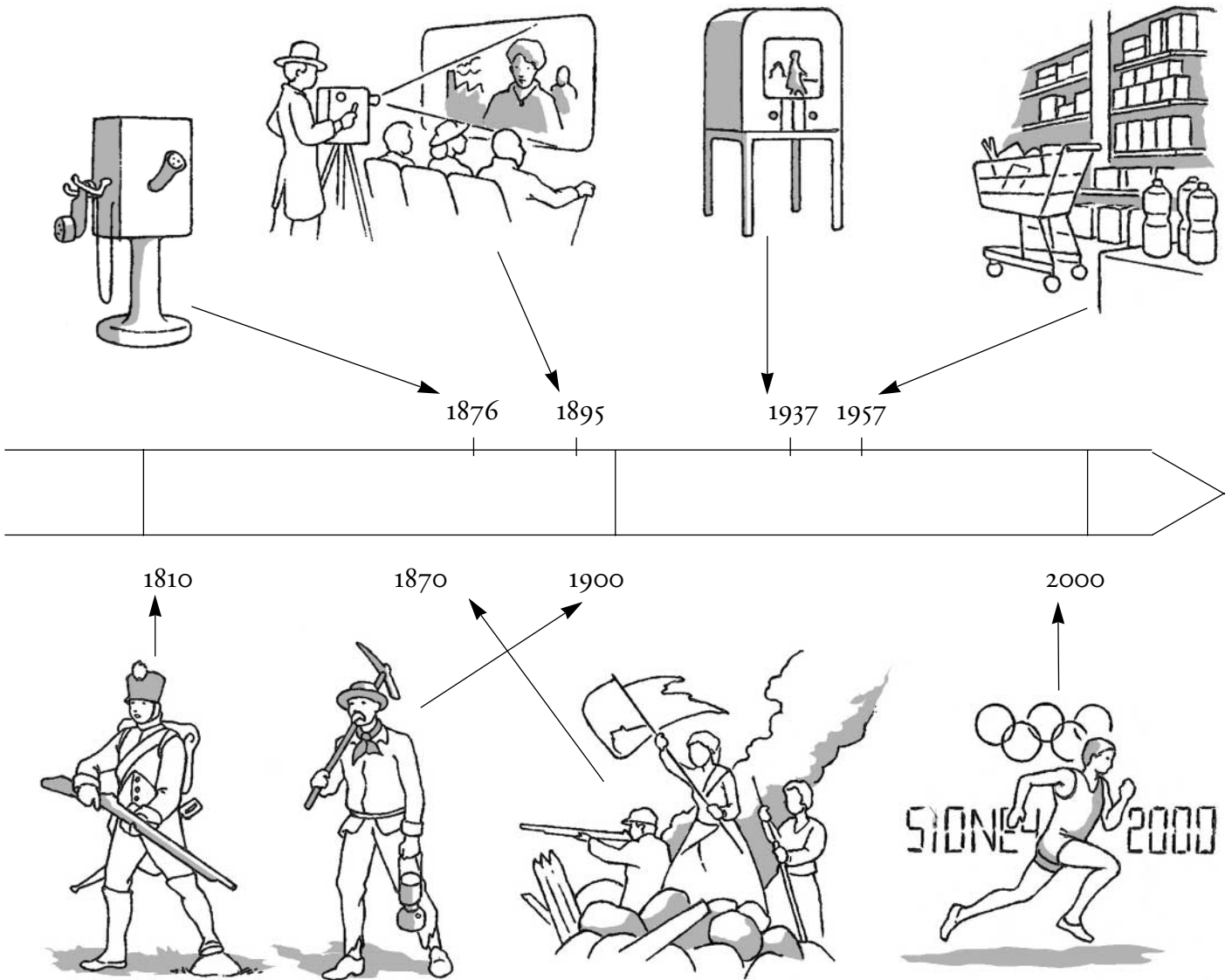
Les premiers supermarchés français : _____

Le travail dans les mines : _____

Les guerres de Napoléon : _____

Les barricades pendant la Commune : _____

Les jeux Olympiques à Sydney : _____



2. Entoure en bleu les dessins des événements ou des inventions qui datent du XIX^e siècle et en vert ceux qui datent du XX^e siècle.

| Lire une frise chronologique des XIX^e et XX^e siècles