

Prénom :

Date :

Les droites perpendiculaires

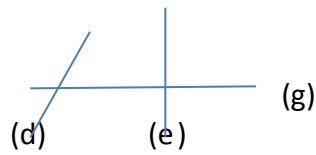



1. Nomme les droites perpendiculaires

Géométrie 13

() \perp ()

() \perp ()



Géométrie 13

(p)

(c)

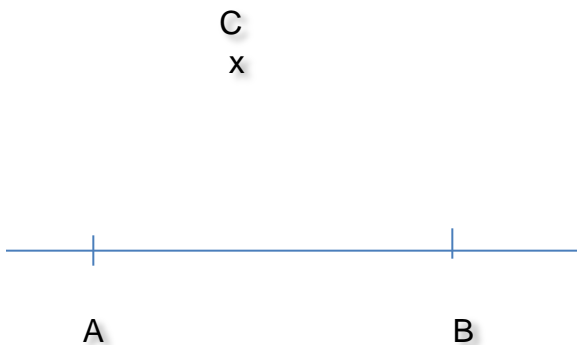
(q)

(e)

2. Construis les droites perpendiculaires suivantes:

Géométrie 13

- Trace une droite perpendiculaire à (AB) passant par C.
- Trace (BE) perpendiculaire à (AB).



A

B

A

B