


Problème 11

l'une / l'un / l'unité



Exemple :

Lucas vend ses 5 toupies 5 € l'une. (=

Combien gagne-t-il d'argent ?

On connaît :

5 :

5 € :

On cherche :


Le schéma :

L'opération :

La phrase de réponse :

Problème 11

l'une / l'un / l'unité



Exemple :

Lucas vend ses 5 toupies 5 € l'une. (= 1 toupie)

Combien gagne-t-il d'argent ?

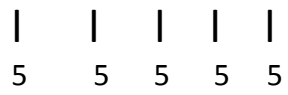
On connaît :

5 : le nombre de toupies

5 € : le prix d'une toupie

On cherche : le prix de toutes les toupies

Le schéma :



L'opération :

$$5 \times 5 = 25$$

La phrase de réponse :

Il a gagné 25 €