

# ATELIER MATHÉMATIQUES

## LA RÈGLE

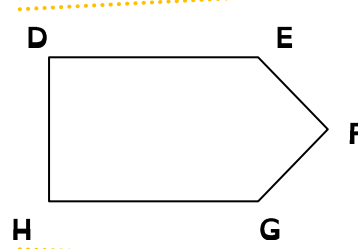
**INFORMATION** : TU VAS APPRENDRE À TE SERVIR DE LA RÈGLE POUR MESURE.

**Le but est de mesurer avec ta règle graduée, les formes géométriques qui sont proposées. Tu vas d'abord mesurer chaque côté et ensuite dire combien cette forme mesure en tout.**

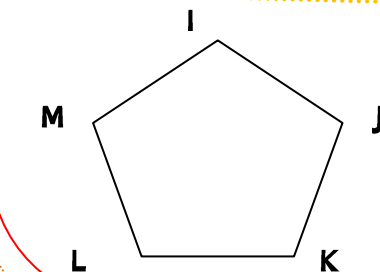
**Tu peux à la fin comparer avec un copain et vérifier si nécessaire.**



AB mesure : .....  
BC mesure : .....  
CD mesure : .....  
Le triangle ABC mesure : .....



DE mesure : .....  
EF mesure : .....  
FG mesure : .....  
GH mesure : .....  
HD mesure : .....  
Le forme DEFGH mesure : .....



IJ mesure : .....  
JK mesure : .....  
KL mesure : .....  
LM mesure : .....  
MI mesure : .....  
Le forme IJKLM mesure : .....

# ATELIER MATHÉMATIQUES

## LA RÈGLE

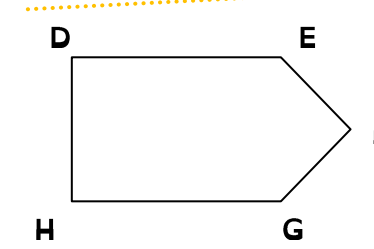
**INFORMATION** : TU VAS APPRENDRE À TE SERVIR DE LA RÈGLE POUR MESURER.

**Le but est de mesurer avec ta règle graduée, les formes géométriques qui sont proposées. Tu vas d'abord mesurer chaque côté et ensuite dire combien cette forme mesure en tout.**

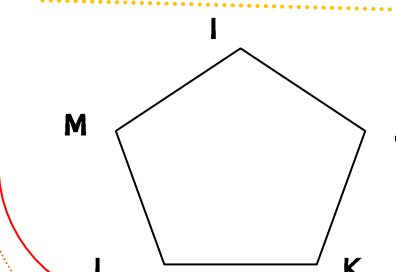
**Tu peux à la fin comparer avec un copain et vérifier si nécessaire.**



AB mesure : .....  
BC mesure : .....  
CD mesure : .....  
Le triangle ABC mesure : .....



DE mesure : .....  
EF mesure : .....  
FG mesure : .....  
GH mesure : .....  
HD mesure : .....  
Le forme DEFGH mesure : .....



IJ mesure : .....  
JK mesure : .....  
KL mesure : .....  
LM mesure : .....  
MI mesure : .....  
Le forme IJKLM mesure : .....