


ATELIER MATHÉMATIQUES




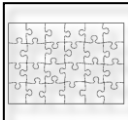





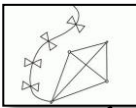
COMPLÉMENTS À 10

INFORMATION : TU VAS APPRENDRE À TE SERVIR ET À APPRENDRE LES COMPLÉMENTS À 10, EN UTILISANT LA MONNAIE.

Kio et Marion ont reçu 10 € de leur grand-mère. Avec ces 10€, ils doivent s'acheter tous les deux un cadeau.

Le but est de trouver toutes les possibilités de cadeaux qu'ils peuvent s'acheter. Tu peux t'aider en prenant les billets ; et vérifier avec un copain à la fin, si vous trouvez pareil.



				
1 €	9 €	4 €	7 €	3 €
				
5 €	2 €	6 €	8 €	10 €

Exemple : Ils peuvent acheter 2 toupies, parce que $5 + 5 = 10$

Ecris ici tes résultats :


ATELIER MATHÉMATIQUES

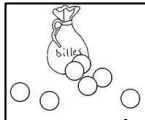

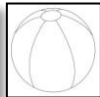

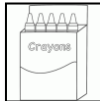




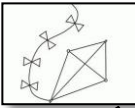
COMPLÉMENTS À 10

INFORMATION : TU VAS APPRENDRE À TE SERVIR ET À APPRENDRE LES COMPLÉMENTS À 10, EN UTILISANT LA MONNAIE.

Kio et Marion ont reçu 10 € de leur grand-mère. Avec ces 10€, ils doivent s'acheter tous les deux un cadeau.

Le but est de trouver toutes les possibilités de cadeaux qu'ils peuvent s'acheter. Tu peux t'aider en prenant les billets ; et vérifier avec un copain à la fin, si vous trouvez pareil.



				
1 €	9 €	4 €	7 €	3 €
				
5 €	2 €	6 €	8 €	10 €

Exemple : Ils peuvent acheter 2 toupies, parce que $5 + 5 = 10$

Ecris ici tes résultats :
